

**जिल्हाधिकारी कार्यालय, सोलापूर**  
**तलाठी सरळसेवा भरती परीक्षा (१ सप्टेंबर २०१३)**

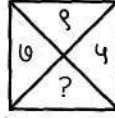
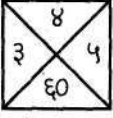
- १) अनौपचारिक पत्रात आई-वडिलांसमान व्यक्तींना, गुरुजनादी व्यक्तींना '.....' यांना साष्टांग नमस्कार' असा मायना लिहिण्याचा प्रघात आहे. (पहिली रिकामी जागा भरा.)  
A) तीर्थरूप B) तीर्थस्वरूप C) प्रिय D) महोदय
- २) गटात न बसणारा शब्द ओळखा.  
A) राऊळ B) मंदिर C) देवालय D) राळ
- ३) रुधिर या शब्दाला समानार्थी शब्द कोणता?  
A) रक्त B) आय C) जल D) वसन
- ४) दुपारच्या भोजनानंतरची अल्पशी निद्रा म्हणजे .....  
A) भोजननिद्रा B) साखरझोप C) वामकुक्षी D) शीघ्रनिद्रा
- ५) आजानुबाहू म्हणजे काय?  
A) ज्याचे पाय डोक्याला लागू शकतात असा B) ज्याचे बाजू अत्यंत शक्तिशाली आहेत असा  
C) ज्याचे हात गुडघ्यापर्यंत लांब आहेत असा D) बोकडाचे पाय
- ६) "उष्ट्या हाताने कावळा न हाकलणे" या वाक्प्रचाराचा अर्थ काय?  
A) कोणतेही काम व्यवस्थितपणे करणे B) एक काम करीत असताना दुसरे काम न करणे  
C) जबाबदारी दुसऱ्यावर ढकलणे D) कधी कोणाला काहीही न देणे
- ७) मराठी भाषेतील पहिला शिलालेख कर्नाटकात ..... या ठिकाणी श्रीगोमटेश्वराच्या मूर्तीखाली आढळतो?  
A) हंपी B) म्हैसूर C) श्रवणबेळगोळ D) बेळगाव
- ८) "लाभले आम्हांस भाग्य बोलतो मराठी ....." या काव्यपंक्ती कुणाच्या?  
A) सुरेश भट B) ग्रेस C) कुसुमाग्रज D) माधव जुलियन
- ९) ..... आणि ..... यांना स्वरादी असे म्हणतात.  
A) अ, आ B) अं, अः C) उ, अ D) क, ख
- १०) त्, थ्, द्, ध् ही ..... आहेत.  
A) तालव्य वर्ण B) कंठ्य वर्ण C) ओष्ठ्य वर्ण D) दंत्य वर्ण
- ११) दुरात्मा = ?  
A) दूर + आत्मा B) दुर + आत्मा C) दुः + आत्मा D) दु + आत्मा
- १२) 'खोड' या शब्दाचे स्त्रीलिंगी रूप काय?  
A) भाटी B) कालवड C) म्हैस D) शेळी
- १३) 'चौदा भाषा' यात चौदा हा शब्द ..... आहे.  
A) आवृत्तिवाचक संख्याविशेषण B) गणनावचक संख्याविशेषण  
C) क्रमवाचक संख्याविशेषण D) अनिश्चित संख्याविशेषण
- १४) "वाटाण्याच्या अक्षता लावणे" या वाक्प्रचाराचा अर्थ काय?  
A) एखादी धार्मिक विधी चुकीच्या पद्धतीने करणे B) खोटे बोलणे  
C) स्पष्टपणे नाकारणे D) खोटी स्तुती करणे
- १५) 'नळी फुंकिली सोनारे, इकडून तिकडे गेले वारे' या म्हणीचा अर्थ काय?  
A) घरोघरी मातीच्याच चुली B) पालथ्या घड्यावर पाणी  
C) दुभत्या गायीच्या लाथा गोड D) नाव सोनुबाई हाती कथलाचा वाळा
- १६ ते १८ दिलेल्या पर्यायातून शुद्ध शब्द ओळखा.  
१६) A) उज्वल B) उज्वल C) ऊज्वल D) ऊज्वल  
१७) A) दिर्घायुषी B) दिर्घायुषी C) दीर्घायुषी D) दीर्घायुषी  
१८) A) साहित्यिक B) साहित्यिक C) साहीत्यिक D) साहित्यिक

- १९) पुढील वाक्यातील अव्ययाचा योग्य पर्याय निवडा. 'संपत्ती मिळवावी पण परोपकार करावा.'
- A) केवलप्रयोगी अव्यय B) शब्दयोगी अव्यय C) उभयान्वयी अव्यय D) क्रियाविशेषण अव्यय
- २०) पुढील वाक्यातील पहिल्या शब्दाची जात ओळखा. 'कोण आले होते मला माहीत नाही'
- A) सामान्य सर्वनाम B) पुरुषवाचक सर्वनाम C) दर्शक सर्वनाम D) संबंधी सर्वनाम
- २१) ज्या वाक्यात सकर्मक क्रियापद आहे, ते वाक्य ओळखा.
- A) मी पेरू खातो. B) बाळ हसते. C) रमेश जात आहे. D) त्याला खवखवते
- २२) रीती वर्तमानकाळातील वाक्य ओळखा.
- A) मी लेखन करीत असतो. B) मी पुस्तक वाचीत असे.  
C) मी व्यायाम केला आहे. D) मी लेखन करीत राहीन.
- २३) पुढील शब्दाची विभक्ती ओळखा. 'रमाबाईस'
- A) द्वितीया B) तृतीया C) चतुर्थी D) पंचमी
- २४) 'आजउद्या' या शब्दाचा समास ओळखा.
- A) वैकल्पिक द्वंद्व B) इतरेतर द्वंद्व C) मध्यमपदलोपी D) बहुव्रीही
- २५) पुढील वाक्यातील अलंकार ओळखा. 'मनमोहिनी तुझा मोहक मोहरा मनातून माझ्या मावळेना'
- A) यमक B) अनुप्रास C) उत्प्रेक्षा D) रूपक
- 26) ..... Honesty is ..... best policy. (Use correct articles)
- A) the, a B) no article, the. C) the, the D) no article, no article
- 27 & 28 What is the meaning of following idioms / phrases.
- 27) At the eleventh hour.
- A) at late night B) after inevitable has happened  
C) at the last moment D) just before the next day
- 28) Between Scylla and Charybdis.
- A) On a very narrow path B) between two great difficulties  
C) between one good choice and one bad choice D) between two good choices
- 29) Panacea means .....
- A) a remedy for all diseases B) beautiful landscape C) universal truth D) very big
- 30) We congratulated him ..... his success. (Use the correct preposition)
- A) on B) of C) for D) upon
- 31) The Ganga is the longest river in India. (Make positive)
- A) The Ganga is longer than any other river in India.  
B) The Ganga is longest of all rivers in India.  
C) No river in India is longer than the Ganga.  
D) No other river in India is as long as the Ganga.
- 32) As ..... MP Mr. Patil has done many good things for people. (Use the correct article)
- A) a B) an C) the D) no article
- 33) Which statement has correct use of punctuation marks?
- A) "No", I said, "I don't want a basket." B) "No" ? I said, "I dont want a basket."  
C) "No" I said "I don't want a basket." D) "No" I said "I dont want a basket."
- 34) At an early age he made his mark as a chemist.  
(What is the meaning of underlined words?)
- A) made chemical mark B) was young boy C) distinguished himself D) took a firm stand
- 35) dog : bitch :: stag : ?
- A) heifer B) mare C) ewe D) doe
- 36) There is a view point high ..... the hills. (Use correct preposition)
- A) on B) in C) at D) top
- 37) Have you ..... this book? (Use proper past participle form of the verb 'read')
- A) red B) readed C) reading D) read
- 38) मी पत्र लिहिलेले होते. (Translate into English)
- A) I had written a letter. B) I was written a letter.  
C) I had wrote a letter D) I had been written a letter.

- 39) "Why are we here?", asked a boy to his mother. (Make indirect speech)  
 A) A boy asked his mother why they were here.  
 B) A boy asked to his mother why they were there.  
 C) A boy asked his mother why were they were there.  
 D) A boy asked to his mother why we were here.
- 40) We haven't met before, ..... (Use question tag)  
 A) haven't we?      B) have not we?      C) have we ?      D) have we met?
- 41) The food was very hot. We could not eat it. (Rewrite using too)  
 A) The food was so too hot that we could not eat it.  
 B) The food was too hot for us to eat.  
 C) The food was so hot that we could not eat too.  
 D) The food was so hot for us too eat.
- 42) We like History better than Geography. (Rewrite using prefer)  
 A) We prefer Geography to History.      B) We prefer History to Geography.  
 C) We like History being preferred to Geography D) Let's prefer History to Geography.
- 43) There I saw a very old man. (Make complex sentence)  
 A) There I saw a man who was very old.      B) There I saw a man. He was very old.  
 C) There I was seeing a man who was very old. D) I saw there a man and he was very old.
- 44) Madhu said to Meena, "Work hard if you want to become a teacher." (Make indirect speech)  
 A) Madhu said Meena work hard if she wanted to become a teacher.  
 B) Madhu told Meena to work hard if she want to become a teacher.  
 C) Madhu told Meena to work hard if she was wanting to become a teacher.  
 D) Madhu told Meena to work hard if she wanted to become a teacher.
- 45) Synonym of comprehend is .....  
 A) whole      B) understand      C) holistic      D) compel
- 46) Synonym of slander is .....  
 A) defamation      B) slim      C) narrow      D) reptile
- 47) Antonym of servant is .....  
 A) government      B) owner      C) master      D) peon
- 48 to 50 Identify correctly spelled words.  
 48) A) address      B) adress      C) addres      D) adres  
 49) A) superitendent      B) suprintendant      C) supritendent      D) superintendent  
 50) A) congretulation      B) congrejulation      C) congratulation      D) congrajulation
- ५१) सिंधुदुर्ग : रत्नागिरी :: X : Y (X आणि Y च्या जागी पुढीलपैकी अनुक्रमे संभाव्य उत्तर काय?)  
 A) लातूर : उस्मानाबाद      B) उस्मानाबाद : लातूर      C) उस्मानाबाद : सोलापूर      D) सोलापूर : उस्मानाबाद
- ५२) चिमासाहेबी, अनादेशाही, तासगाव-चमन, सोनाका या कशाच्या जाती आहेत?  
 A) गहू      B) ऊस      C) कापूस      D) द्राक्षे
- ५३) पुढीलपैकी कोणत्या ठिकाणी संरक्षण साहित्य बनविण्याचा कारखाना (ordnance factory) नाही?  
 A) खडकी, जि. पुणे      B) जवाहरनगर, जि. भंडारा  
 C) वाडी (अंबाझरी), जि. नागपूर      D) पनवेल, जि. रायगड
- ५४) माळढोक पक्षी अभयारण्य सोलापूर आणि ..... जिल्ह्यात आहे.  
 A) अहमदनगर      B) लातूर      C) विजापूर      D) सांगली
- ५५) आळेफाट्यावरून कल्याणला जाताना कोणता घाट लागतो?  
 A) तान्हाणी      B) अंबोली      C) खंडाळा      D) माळशेज
- ५६) 'कवीकुलगुरु कालिदास संस्कृत विद्यापीठ कोठे आहे?  
 A) काशी      B) रामटेक      C) उज्जैन      D) मदुराई
- ५७) अबोर आणि अपातनी या जमाती कोणत्या राज्यात आढळून येतात?  
 A) नागालँड      B) छत्तीसगड      C) झारखंड      D) अरुणाचल प्रदेश
- ५८) भारताच्या राष्ट्रचिन्हाखाली लिहिलेले 'सत्यमेव जयते' हे वाक्य ..... मधून घेतलेले आहे.  
 A) गीता      B) वाल्मिकी रामायण      C) मुंडक उपनिषद      D) ऋग्वेद

- ५९) भारताचा राष्ट्रीय प्राणी कोणता?  
 A) सिंह B) वाघ C) चित्ता D) हत्ती
- ६०) भारतीय नौदलाच्या (Navy) प्रमुखाला ..... म्हणतात.  
 A) जनरल B) अॅडमिरल C) कमोडोर D) मार्शल
- ६१) चंद्राचा फक्त ..... पृष्ठभागच पृथ्वीवरून दिसू शकतो.  
 A) ४१% B) ४७% C) ५१% D) ५९%
- ६२) ..... हे जगातील प्राचीन बंदरांपैकी एक होय.  
 A) लोथल B) हरप्पा C) कालिबंगन D) तक्षशिला
- ६३) अमरावती येथे कुष्ठरोग्यांच्या पुनर्वसनासाठी तपोवन - जगदंबा कुष्ठधामाची स्थापना कोणी केली?  
 A) बाबा आमटे B) शिवाजीराव पटवर्धन C) विनोबा भावे D) पंजाबराव देशमुख
- ६४) गीतगोविंद ही साहित्यकृती कोणाची?  
 A) हरिवंशराय बच्चन B) अमृता प्रीतम C) जयदेव D) भवभूती
- ६५) विंदा करंदीकर यांना ज्ञानपीठ पुरस्कार ..... या साहित्यकृतीबद्दल प्रदान करण्यात आलेला आहे.  
 A) अष्टदर्शने B) ययाती C) स्पर्शाची पालवी D) आकाशाचा अर्थ
- ६६) हॅबिअस कॉर्पस (बंदी प्रत्यक्षीकरण), मॅडामस (परमादेश), प्रोहिबिशन (प्रतिषेध), सर्शिओररी (उत्प्रेक्षण) आणि को वॉरंटो (अधिकारपृच्छा) हे कशाचे प्रकार आहेत?  
 A) दिवाणी दावे B) फौजदारी दावे C) रिट (Writ) D) मूलभूत अधिकार
- ६७) राष्ट्रपतींना पदावरून दूर करण्यासाठी कोणती प्रक्रिया आवश्यक आहे?  
 A) महाअभियोग B) अविश्वास ठराव C) विभागीय चौकशी D) न्यायालयीन चौकशी
- ६८) जेव्हा एखाद्या राज्यातील घटनात्मक यंत्रणा कोलमडते, तेव्हा राष्ट्रपतीस (राज्यपालांच्या सल्ल्यानुसार) ..... कलमाखाली आणीबाणी जाहीर करता येते.  
 A) ३५२ B) ३५६ C) ३६० D) ३६४
- ६९) ग्रामपंचायत कितीही मोठीही असली तरी त्यामध्ये ..... पेक्षा अधिक सदस्य असू शकत नाहीत.  
 A) १३ B) १५ C) १७ D) १९
- ७०) नॅशनल एड्स रिसर्च इन्स्टिट्यूट ही संस्था कोठे आहे?  
 A) देवनहळ्ळी (बंगळुरु) B) सांताक्रुझ (मुंबई) C) युसुफगुडा (हैदराबाद) D) भोसरी (पुणे)
- ७१) गटात न बसणारा शब्द ओळखा.  
 A) युरोप B) भारत C) जपान D) मलेशिया
- ७२) इंडियन बॅडमिंटन लीगमध्ये दिल्ली शहराच्या नावाने ओळखल्या जाणाऱ्या चमूचे नाव काय?  
 A) दिल्ली डेअर डेव्हिल्स B) दिल्ली शटलर्स C) दिल्ली स्मॅशर्स D) दिल्ली वेव्ह रायडर्स
- ७३) एवढ्यात प्रकाशझोतात आलेला तहरीर चौक कोणत्या खंडात आहे?  
 A) आशिया B) आफ्रिका C) दक्षिण अमेरिका D) युरोप
- ७४) ॲसिटिल सॅलिसिलिक ॲसिड (Acetylsalicylic acid) ला आणखी कोणत्या नावाने ओळखतात?  
 A) ॲस्पिरिन (Aspirin) B) व्हिनेगर (Vinegar)  
 C) पेनिसिलीन (Penicillin) D) कॉस्टिक सोडा (Caustic Soda)
- ७५) भारत राष्ट्रीय खेळ दिवस (National Sports Day) केव्हा साजरा केला जातो?  
 A) २९ ऑगस्ट B) ११ नोव्हेंबर C) ८ मार्च D) १७ मे
- ७६) एका सांकेतिक भाषेत CLIENT हा शब्द EIMZTM असा लिहिला तर TENSION हा शब्द कसा लिहाल?  
 A) UCRMVHV B) UBSNVHV C) VBSMVHV D) VBRNOHV
- ७७) ३, ५, ९, १५, २३, ३३, ? (प्रश्नचिन्हाच्या जागी योग्य अंक लिहा.)  
 A) ४० B) ४२ C) ४५ D) ४७
- ७८) ३, ४, ८, १७, ३३, ५८, ९४, १४३, ? (प्रश्नचिन्हाच्या जागी योग्य अंक लिहा.)  
 A) १३२ B) १३३ C) २०७ D) १३७
- ७९) gfe\_ig\_eii\_fei\_ii (ल्यबद्ध मालिका पूर्ण करण्यासाठी रिकाम्या जागा भरा.)  
 A) eifgi B) figie C) ifige D) ifgie
- ८०) ८० ते ८३ प्रश्नचिन्हाच्या जागी काय येईल?  
 A) ५६ : ४४८ :: ७२ : ?  
 A) ७२० B) ७३८ C) ५७६ D) ६२०
- ८१) D8VE : C6TF :: B4RG : ?  
 A) B2QT B) A2PH C) C4RH D) A2HP

८२)



A) ३००

B) ३१५

C) ३२०

D) ४००

८३)

२३०	६०	११०
२४०	?	१३८
२५०	५९	१३२

A) ५०

B) ५१

C) ५२

D) ५३

८४)

रोहित आपल्या घरातून निघाल्यावर १५ मी. पूर्वेस गेला. तेथून त्याला कुणाला भेटला, ते दोघे त्याच दिशेने ५ मी. चालत गेल्यानंतर रोहित डाव्या बाजूला व कुणाल उजव्या बाजूला अनुक्रमे १० मी. व ७ मी. गेले. कुणाल डाव्या बाजूला ५ मी. व नंतर उजव्या बाजूला वळून २ मी. गेल्यावर ऑफिसला पोहोचला. तर रोहित शेवटी उजव्या बाजूला वळून ५ मी. गेल्यावर ऑफिसमध्ये पोहोचला. तर त्या दोघांच्या ऑफिसमधले अंतर किती? व शेवटी कुणाल कोणत्या दिशेला गेला?

A) १९ मी. दक्षिण

B) १७ मी. पूर्व

C) १९ मी. पूर्व

D) १७ मी. पश्चिम

८५)

रशिद पश्चिमेकडे तोंड करून उभा आहे. तो घड्याळ्याच्या काट्याच्या दिशेने ४५ अंशातून वळला आणि पुन्हा त्याच दिशेने १८० अंशातून वळला आणि नंतर घड्याळ्याच्या काट्याच्या विरुद्ध दिशेने २७० अंशातून वळला, तर त्याचे तोंड आता कोणत्या दिशेला आहे?

A) दक्षिण

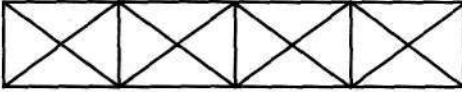
B) वायव्य

C) पश्चिम

D) नैऋत्य

८६)

खालील आकृतीत किती त्रिकोण आहेत?



A) १६


B) २८

C) ३२

D) ३८

८७)

खालील आकृतीत किती आयत आहेत?



A) १६

B) १४

C) १५

D) १३

८८)

२ वाजून २० मिनिटे झाली असताना घड्याळातील तासकाटा व मिनिटकाटा यांच्यामध्ये किती अंशाचा कोन असेल?

A) ४०°

B) ५०°

C) ६०°

D) ७०°

८९)

११२६३ सेकंदाचे तास, मिनिटे व सेकंदात रूपांतर करा.

A) ३ तास ७ मि. २३ से.

B) ३ तास ६ मि. ४३ से.

C) २ तास ७ मि. ४३ से.

D) ३ तास ७ मि. ४३ से.

९०)

शर्वरीचा जन्म शनिवार दि. ४ सप्टेंबर १९९३ ला झाला, तर तिचा तिसरा वाढदिवस ..... ला होता.

A) बुधवार

B) गुरुवार

C) मंगळवार

D) सोमवार

९१)

मेंढ्या आणि मेंढपाळ्यांच्या एका गटामध्ये एकूण पायांची संख्या ही डोक्यांच्या संख्येच्या दुपटीपेक्षा १६ ने अधिक आहे, तर गटात मेंढ्यांची संख्या किती?

A) ६

B) ८

C) २२

D) ३५

९२)

'क्ष' या स्थानापासून 'य' हे ठिकाण ५०० मीटर अंतरावर आहे. 'क्ष' पासून 'य' पर्यंत प्रत्येक १० मीटर अंतरावर एक झाड लावावयाचे ठरल्यास एकूण किती झाडे लावता येतील?

A) ४९

B) ५०

C) ५१

D) ५२

९३)

५ बगळे, ५ मासे ५ मिनिटात खातात, तर १ बगळा, १ मासा किती मिनिटात खाईल?

A) १ मिनिट

B) १/५ मिनिट

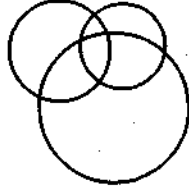
C) ५ मिनिट

D) २५ मिनिट

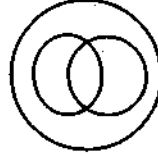
- १४) A हा B पेक्षा उंच, M हा A पेक्षा उंच, G हा M पेक्षा उंच, Y हा सर्वात उंच आहे, तर उंचीच्या तुलनेत मध्यस्थानी कोण असेल?  
A) M B) G C) A D) B
- १५) ५० घीटर लांबीच्या कापडातून रोज ५ मीटर कापड कापले जात असेल, तर ते कापड पूर्ण कापायला किती दिवस लागतील?  
A) १० B) ९ C) ११ D) १२
- १६) A, B, C, D, E, F हे ६ मित्र समोरासमोर बसून एका वर्तुळाकृती मैदानात खेळत आहेत. E हा D च्या डाव्या बाजूस आहे. C हा A आणि B च्या मध्ये आहे. F हा E आणि A च्या मध्ये आहे. तर A च्या आजूबाजूला कोण?  
A) AB B) FC C) FD D) CE
- १७) प्रत्येक तासाला घड्याळ्यात त्यावेळी जितके वाजले असतील तितके टोल पडतात, म्हणजे एक वाजता एक टोल, दोन वाजता दोन टोल याप्रमाणे. तर २४ तासात एकूण किती टोल पडतील?  
A) १५४ B) १५६ C) १५८ D) १६०
- १८) कृष्णाने रु. १०००/- भांडवल घालून एक धंदा सुरू केला. ४ महिन्यांनंतर राणीने रु. १२०००/- चे भांडवल घालून त्यात भाग घेतला. वर्षाच्या शेवटी रु. २५५०/- नफा झाल्यास राणीचा वाटा किती?  
A) रु. १३५० B) रु. ११७५ C) रु. १२०० D) रु. १२५०
- १९ व १०० प्रश्नांतील शब्दात पुढीलपैकी कोणत्या व्हेन आकृतीनी दर्शविता येतो? अचूक पर्याय दर्शविणाऱ्या आकृतीखालील पर्याय उत्तरात लिहा.



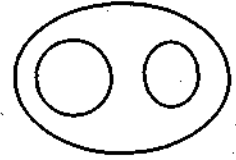
A



B



C



D

- १९) सजीव, प्राणी, हत्ती

A) A

B) B

C) C

D) D

- १००) मंगळ, युरेनस, ग्रह

A) A

B) B

C) C

D) D

उत्तरे - जिल्हाधिकारी कार्यालय, सोलापूर, तलाठी सरळसेवा भरती परीक्षा (१ सप्टेंबर २०१३)

१-B	२-D	३-A	४-C	५-A	६-B	७-C	८-A	९-B	१०-D
११-C	१२-B	१३-B	१४-D	१५-B	१६-A	१७-C	१८-B	१९-C	२०-B
२१-A	२२-A	२३-A	२४-B	२५-D	२६-B	२७-C	२८-B	२९-A	३०-A
३१-D	३२-B	३३-A	३४-C	३५-D	३६-B	३७-D	३८-A	३९-B	४०-C
४१-B	४२-B	४३-A	४४-D	४५-B	४६-A	४७-C	४८-A	४९-D	५०-C
५१-C	५२-D	५३-D	५४-D	५५-D	५६-B	५७-D	५८-C	५९-B	६०-B
६१-A	६२-C	६३-A	६४-C	६५-B	६६-D	६७-A	६८-A	६९-C	७०-D
७१-A	७२-C	७३-B	७४-A	७५-A	७६-D	७७-C	७८-C	७९-D	८०-C
८१-A	८२-B	८३-B	८४-C	८५-C	८६-D	८७-C	८८-B	८९-D	९०-A
९१-B	९२-C	९३-B	९४-A	९५-B	९६-B	९७-B	९८-C	९९-A	१००-D