

लिपिक-टंकलेखक लेखी परीक्षा
(मार्च, २०१३)

एमआयडीसी

- 1) Fill in the blank with the correct word or phrase.
..... Carefulness could have saved the situation.
 1) A little 2) Little 3) The Little 4) Less
- 2) Choose the alternative which is closest in meaning to the underlined in the following sentence. Everybody present wondered at his audacity.
1) Presence of Mind 2) Wit 3) Confidence 4) Impudence
- 3) Choose the correct alternative of fill in the blank:
The.....part of the film was not very interesting.
1) Late 2) Later 3) Latter 4) Latest
- 4) Choose the suitable verb form : The train..... at 6.30 p.m. everyday.
 1) arrives 2) will arrives 3) arriving 4) would arriving
- 5) Ladakh is colder than Kashmir choose the correct alternative with positive degree.
 1) Kashmir is not so cold as Ladakh. 2) Kashmir is less colder than Ladakh.
3) Ladakh is more colder than Kashmir.
4) Ladakh is colder compared to Kashmir.
- 6) Select the correct antonym for noble.
1) disnoble 2) ennoble 3) ignoble 4) innoble
- 7) Remove 'too' from the sentence and select correct answer from below:
She is too weak to walk.
1) She was too weak that she cannot walk. 2) She is so weak that she cannot walk.
3) She is so weak that she can walk. 4) She is so weak to walk.
- 8) Which is the correct direct speech of the following sentence ?
She says she likes going to a seaside
 1) She says, "I like going to a seaside." 2) She said, "She likes going to a seaside"
3) She told, "She like going to the seaside"
4) She exclaimed, "She like going to the seaside."
- 9) Complete the following sentence by choosing the correct conjunction.
Seema ran very fast..... failed to reach on time.
1) and 2) although 3) but 4) because
- 10) Fill in the blank with the suitable article :
Chh. Shivaji was..... great warrior.
 1) the 2) an
3) a 4) none of the above
- 11) Fill in the blank with the appropriate preposition :
1) on 2) at 3) up 4) in
- 12) Which is the correct passive voice of "He kept me waiting ?"
1) I am kept waiting by him. 2) I was kept waiting by him.
3) I have been kept waiting by him. 4) I had been-kept waiting by him.

- 13) A person who studies cause origin and nature of disease is known as.....
 1) Pathologist 2) Psychologist 3) Gynaecologist 4) Dermatologist
- 14) Which one of the following alternatives is not a Modal auxiliary ?
 1) have to 2) ought to 3) must 4) have
- 15) I was not sure that it was you. (Remove negation)
 1) It was not sure that it was you. 2) It was sure that it was you.
 3) It was unbelievable that it was you. 4) It was doubtful whether it was you.
- 16) Choose the correct antonym of wet
 1) moist 2) soaked 3) damp 4) dry
- 17) The plural of Criterion is :
 1) criteria 2) criterians 3) criterianes 4) criteras
- 18) Choose the incorrect alternative from the following.
 1) As sweet as Mango. 2) As heavy as lead.
 3) As wise as Salomon 4) As swimming as fish
- 19) Fill in the blank with the correct word.
 He Jumped..... the wall.
 1) on 2) from 3) into 4) upon
- 20) They finished the work yesterday. (Make interrogative)
 1) Do they finish the work yesterday ? 2) Did they finish the work yesterday ?
 3) Hed they finished the work yesterday ?
 4) Have they finished the work yesterday ?
- २१) माधव ज्युलियन यांचे पूर्ण नाव काय ?
 १) गणेश माधव पटवर्धन २) माधव त्र्यंबक पटवर्धन
 ३) त्र्यंबक केशव पटवर्धन ४) काशिनाथ केशव पटवर्धन
- २२) 'ज्वाला आणि फुले' हे पुस्तक कोणी लिहिले ?
 १) यशवंतराव चव्हाण २) दया पवार ३) बाबा आमटे ४) साने गुरुजी
- २३) भूतकाळी क्रियापद असलेला खालीलपैकी शब्द ओळखा.
 १) गेला २) होईल ३) येऊन ४) जाताना
- २४) भाषेचा आद्य घटक कोणता ?
 १) वर्ण २) शब्द ३) ध्वनी ४) वाक्य
- २५) मराठीमध्ये एकूण किती वर्ण आहेत ?
 १) ४८ २) २६ ३) ४४ ४) १४
- २६) बाराखडी कशी तयार होते ?
 १) प्रत्येक व्यंजन स्वरयुक्त बनवून २) खडूने बारा अक्षरे लिहून
 ३) बारा अक्षरे लिहून ४) दहा स्वर व दोन स्वरादी यांनी युक्त अशी व्यंजने तयार करून
- २७) मुलाफुलांचे कवी कोणाला म्हटले जाते ?
 १) ना. वा. टिळक २) भा. रा. तांबे ३) सुरेश भट ४) नरेंद्र
- २८) झपुर्झा ही कादंबरी कोणी लिहिली ?
 १) बालकवी ठोंबरे २) पु. ल. देशपांडे
 ३) वि. वा. शिरवाडकर ४) कृष्णाजी केशव दामले
- २९) निसर्गकन्या म्हणून कोणाला म्हटले गेले आहे ?
 १) विभावरी शिरूरकर २) बाहिणाबाई ३) संत जनाबाई ४) मुक्ताबाई

- ३०) 'ळ' हा वर्ण कोणत्या प्रकारचा मानला जातो ?
 १) घर्षक २) संयुक्त ३) स्वतंत्र ४) उष्म
- ३१) कर्मणी प्रयोगात कर्म कोणत्या विभक्तीत असते ?
 १) द्वितीया २) चतुर्थी ३) प्रथमा ४) तृतीया
- ३२) ग्रामगीता ही कोणी लिहिली ?
 १) संत तुकाराम २) संत तुकडोजी महाराज ३) संत कैकाडी महाराज ४) संत रोहिदास
- ३३) मराठीतील पहिले साप्ताहिक कोणते ?
 १) केसरी २) सामना ३) दर्पण ४) मराठा
- ३४) मराठीतील पहिली स्त्री कादंबरीकार कोण ?
 १) विभावरी शिरूरकर २) लक्ष्मीबाई टिळक ३) बहिणाबाई चौधरी ४) साळूबाई तांबेकर
- ३५) 'फकीरा' ही कादंबरी कोणी लिहिली ?
 १) नामदेव ढसाळ २) अण्णाभाऊ साठे ३) दया पवार ४) आनंद यादव
- ३६) सर्वनामाचे मुख्य प्रकार किती ?
 १) ६ २) ४ ३) ८ ४) २
- ३७) निबंधमालाकार म्हणून कोणाला म्हटले आहे ?
 १) पु. ल. देशपांडे २) श्री. व्यं. केतकर ३) विष्णुशास्त्री चिपळूणकर ४) लोकहितवादी
- ३८) 'एल्गार' हा काव्यसंग्रह कोणी लिहिला ?
 १) प्र. के. अत्रे २) भा. रा. तांबे ३) नरेंद्र ४) सुरेश भट
- ३९) 'झोंबी' ही कादंबरी कोणी लिहिली ?
 १) दया पवार २) लक्ष्मण माने ३) आनंद यादव ४) रणजित देसाई
- ४०) 'एकच प्याला' या प्रसिद्ध नाटकाच्या नाटककाराचे नाव लिहा.
 १) दया पवार २) लक्ष्मण माने ३) आनंद यादव ४) राम गणेश गडकरी
- ४१) महात्मा फुले यांनी बालहत्या प्रतिबंध गृह..... या वर्षी सुरू आहे.
 १) १८५७ २) १८५९ ३) १८६१ ४) १८६३
- ४२) 'आर्य महिला समाजा' च्या संस्थापक आहेत.
 १) रमाबाई रानडे २) विमलाबाई वैद्य ३) पंडिता रमाबाई ४) सावित्रीबाई फुले
- ४३) महाराजा सयाजीराव गायकवाड यांचे मूळ नाव..... हे आहे.
 १) गोपाळराव गायकवाड २) यशवंतराव गायकवाड
 ३) काशीराव गायकवाड ४) आनंदराव गायकवाड
- ४४) गाडगे बाबांना खराट्याचा बादशहा कोणी म्हटले आहे ?
 १) राजर्षी शाहू २) डॉ. आंबेडकर ३) प्रबोधनकार ठाकरे ४) आचार्य अत्रे
- ४५) इ. स. १९१४ सालचे डांबर प्रकरण.... यांच्याशी संबंधित आहे.
 १) संत गाडगेबाबा २) कर्मवीर भाऊराव पाटील ३) डॉ. आंबेडकर ४) प्रबोधनकार ठाकरे
- ४६) महात्मा फुले यांनी मुर्लीसाठी पहिली शाळा.... या वर्षी सुरू केली.
 १) १८४२ २) १८४४ ३) १८४६ ४) १८४८
- ४७) 'एटीफोर नॉट आऊट' हे आत्मचरित्र कोणाचे ?
 १) र. पु. परांजपे २) महात्मा गांधी ३) वि. दा. सावरकर ४) न्या. रानडे
- ४८) बॉम्बे असोसिएशनचे पहिले चिटणीस हे होते.
 १) न्या. रानडे २) दादाभाई नौरोजी ३) डॉ. भाऊदाजी लाड ४) दादोबा तर्खडकर
- ४९) यांना महाराष्ट्राचे ईश्वरचंद्र विद्यासागर म्हणतात.
 १) विष्णू बुवा ब्रम्हचारी २) विष्णूशास्त्री पंडित ३) विष्णूशास्त्री चिपळूणकर ४) महात्मा फुले

- ५०) डेक्कन सभेची स्थापना.... यांनी केली.
 १) लोकमान्य टिळक
 ३) विष्णूशास्त्री चिपळूणकर
 २) न्या. रानडे
 ४) कृष्णशास्त्री चिपळूणकर
- ५१) खालीलपैकी अयोग्य जोडी ओळखा.
 १) राजर्षी शाहू - वेदोक्तप्रकरण
 ३) लो. टिळक - केसरी
 २) पंडिता रमाबाई - सेवासदन
 ४) अगरकर-सुधाकर
- ५२) नदी - उगम योग्य जोडी जुळवा.
 १) कृष्णा - पूर्वाघाट
 ३) गोदावरी - पश्चिमघाट
 २) कावेरी - निलगिरी
 ४) वर्धा - विध्यांचल
- ५३) 'पेरियार' अभयारण्य कोणत्या राज्यात आहे ?
 १) झारखंड २) कर्नाटक
 ३) केरळ ४) आसाम
- ५४) नदी - खोरे क्षेत्राच्या चढत्या भाजणीनुसार खालीलपैकी कोणता क्रम योग्य आहे ?
 १) कावेरी, नर्मदा, गोदावरी, कृष्णा
 ३) कावेरी, कृष्णा, नर्मदा, गोदावरी
 २) कावेरी, कृष्णा, गोदावरी, नर्मदा
 ४) कावेरी, नर्मदा, कृष्णा, गोदावरी
- ५५) जगन्नाथ शंकर शेट यांचे टोपण नाव.... होते.
 १) दादा २) नाना
 ३) लोकहितवादी ४) काका
- ५६) मुंबई प्रांताच्या कायदेमंडळाचे पहिले महाराष्ट्रीयन सदस्य..... हे होते.
 १) दादाभाई नौरोजी २) न्या. रानडे
 ३) जगन्नाथ शंकर शेट ४) महात्मा फुले
- ५७) सुबोध रत्नाकर हा ग्रंथ..... यांनी लिहिला.
 १) सावित्रीबाई फुले २) महात्मा फुले
 ३) रमाबाई रानडे ४) न्या. रानडे
- ५८) यमुना पर्यटन कादंबरीत.... समस्या मांडल्या आहेत.
 १) अस्पृश्यांच्या ३) विधवांच्या
 २) शेतकऱ्यांच्या ४) संस्थानिकांच्या
- ५९) डॉ. पंजाबराव देशमुखांनी कोणती संस्था स्थापन केली ?
 १) रयत शिक्षण संस्था
 ३) श्री शिवाजी शिक्षण संस्था
 २) पीपल्स एज्युकेशन सोसायटी
 ४) जगदंबा कुटुंबधाम
- ६०) संत ज्ञानेश्वरांचे जन्मगाव कोणते ?
 १) आपेगाव २) नेवासे
 ३) आळंदी ४) देहू
- ६१) खालील प्रश्नात प्रश्नचिन्हाच्या जागी काय होईल ?
 सिंह : छावा :: घोडा : ?
 १) कोकरू ३) झिंगरू
 २) पाऊस ४) खेचर
- ६२) गटात न बसणारे पद ओळखा.
 १) पोपट २) कबूतर
 ३) वटवाघूळ ४) कोकीळ
- प्रश्न ६३ ते ६५ : विघ्नहर्ता सोसायटीत रस्त्याच्या एकाच बाजूला ओळीने जे बंगले आहेत, त्यात पाच कुटुंबे राहतात. त्यापैकी मोघे व गाडे एकमेकांचे शेजारी आहेत. पानसॅच्या घराच्या डाव्या बाजूस मैदान आहे. गाडे आणि डबीर यांच्यामध्ये कुलकर्णी राहतात. डबीरांचे घर पानसॅच्या घराच्या उजव्या बाजूला आहे तर
- ६३) कोणाचे घर सर्वात मध्यभागी आहे ?
 १) गाडे २) मोघे
 ३) डबीर ४) पानसे
- ६४) सर्वात उजवीकडे कोण राहतात ?
 १) गाडे २) मोघे
 ३) डबीर ४) पानसे
- ६५) डबीराचे एक शेजारी कुलकर्णी तर दुसरे शेजारी कोण ?
 १) पानसे २) गाडे
 ३) मोघे ४) यापैकी नाही

६६) आंबा, सफरचंद, फळे यांचा संबंध दर्शवणारी योग्य आकृती खालीलपैकी कोणती ?



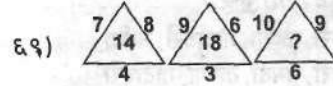
६७) खालीलपैकी गटात न बसणारी संख्या कोणती ?

१) ४१ २) ५१ ३) ६१ ४) ७१

प्रश्न ८८ ते ९० प्रश्नचिन्हाच्या जागी कोणती संख्या येईल ?



१) ५० २) ५४ ३) ५३ ४) ५१

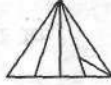


१) १५ २) १३ ३) १६ ४) २१

७०) ६८ : ३४ :: ८२ : ?

१) ४४ २) ६४ ३) ४९ ४) २४

७१) सोबतच्या आकृतीत एकूण किती त्रिकोण आहेत ?



१) १६ २) ५ ३) १० ४) १२

७२) शीर्षासन केलेल्या अवस्थेत संतोषचा डावा हात जर पश्चिम दिशा दाखवित असेल तर त्याचा चेहरा कोणत्या दिशेस आहे ?

१) उत्तर २) दक्षिण ३) पूर्व ४) पश्चिम

७३) $40 \div 12 \div 3 \times 6 - 60 = ?$

१) ४० २) ४ ३) ६४ ४) ४४

७४) पहिल्या आकृतीच्या तळातील पृष्ठावर कोणता अंक असेल ?



१) १ २) २ ३) ३ ४) ४

७५) सात क्रमवार विषम संख्यांची सरासरी २३ आहे, तर त्यापैकी सर्वात मोठी संख्या कोणती ?

१) २७ २) ३१ ३) २९ ४) २५

७६) सौरभचे घड्याळ दर तासाला ५ सेकंद मागे पडते. रविवारी दुपारी ३.०० वाजता ते बरोबर लावले होते. त्यानंतर येणाऱ्या बुधवारी दुपारी ३.०० वाजता ती कोणती वेळ दाखवेल ?

१) ३.०६ २) २.५४ ३) ३.५४ ४) २.५२

७७) एका विद्यार्थ्याचे बरोबर प्रश्नांच्या दुप्पट प्रश्नांचे उत्तर चूक येते. तर ५१ प्रश्नांपैकी त्याचे किती प्रश्न बरोबर असतील ?

१) १७ २) ३४ ३) ४८ ४) ३०

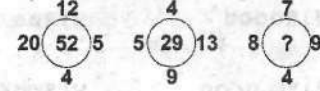
७८) जनावराच्या एका कळपात २४ सोडून सर्व गायी, ३० सोडून सर्व म्हशी व उर्वरित बकऱ्या आहेत. त्या कळपात एकूण ३४ गुरे असतील तर बकऱ्या किती ?

- १) ३४ २) १२ ३) २० ४) ४४

७९) एका व्यासपीठावर सर्व पाहुणे आल्यानंतर सर्वांनी एकमेकांचा परिचय करून घेताना हस्तांदोलन केले, तेव्हा हस्तांदोलनाची संख्या १२० झाली, तर व्यासपीठावर एकूण किती पाहुणे होती ?

- १) १९ २) १६ ३) १२ ४) १०

८०) प्रश्नचिन्हाच्या जागी काय येईल ?



- १) ३२ २) ३४ ३) ३८ ४) ४४

८१) ७२९ चे घनमूळ -

- १) ७ २) ९ ३) ८ ४) ६

८२) एका वर्तुळाची त्रिज्या ३.५ से. मी. असल्यास त्याचा व्यास.... से. मी. असतो.

- १) ४.० २) ७ ३) ७.५ ४) ४.५

८३) पुढील संख्या चिन्हात लिहा : ऋण तेवीस.

- १) -२० २) २० ३) -२३ ४) २३

८४) खरेदी किंमत ३०० रु. व विक्री किंमत ३४५ रु. असल्यास रु. नफा झाला.

- १) ६० २) ४५ ३) ५० ४) ४०

८५) १२ भोवऱ्यांची किंमत ६० रु. आहे तर तशाच १७ भोवऱ्यांची किंमत रु. असेल.

- १) ८५ २) २०४ ३) २९ ४) १२०

८६) ४:५ = x : ५० तर x =

- १) ४५ २) ४० ३) ५५ ४) ६०

८७) अतिसंक्षिप्त रूप लिहा २५ : ४५ =

- १) ७ : ५ २) ९ : ५ ३) ५ : ७ ४) ५ : ९

८८) बेरीज करा : १७४९ + २५६८ + ३१३२ =

- १) ७४४९ २) ४७४९ ३) ४४७९ ४) ७४९४

८९) १३३० =

- १) २९२७ २) २९९७ ३) ४४९ ४) १२२५

९०) $\sqrt[3]{-512} = \dots\dots$ (घनमुळात -५१२ =

- १) ८ २) -७ ३) -८ ४) ७

९१) ९५% =

- १) ९५ २) १०० ३) ४) ९५०

९२) $\frac{16}{11}$ हे दशांश रूपात.... असे लिहितात.

- १) १.४५४५४५ २) १.५४५४५४ ३) १५.४५४५ ४) १५.५४५४

९३) सोपे रूप द्या $= \frac{-13}{4} - \frac{-3}{4} = \dots\dots$

- १) $\frac{-16}{4}$ २) $\frac{-5}{2}$ ३) $\frac{-16}{8}$ ४) $\frac{10}{8}$

- ९४) १८ या संख्येचे विभाजन आहेत.
- १) $3 \times 3 \times 3$ २) $2 \times 3 \times 3 \times 3$ ३) $2 \times 3 \times 3$ ४) 3×3
- ९५) $23457 \times 408 =$
- १) ९५७०४५६ २) ९७५०४५६ ३) ९५७०४६५ ४) ९५०७४५
- ९६) २३४५६ या संख्येतील २ या अंकांची स्थानिक किंमत आहे.
- १) २० २) २०० ३) २००० ४) २००००
- ९७) १ किलोमीटर = हेक्टोमीटर.
- १) १००० २) १० ३) १०००० ४) १००
- ९८) $17.08 \times 1000 =$
- १) १७०८०.०० २) १७०८००.० ३) १७.०८०० ४) १७०८८०
- ९९) $\frac{3}{4} \div 2 =$
- १) $\frac{8}{3}$ २) $\frac{6}{4}$ ३) $\frac{3}{8}$ ४) $\frac{3}{4}$
- १००) $\frac{14}{26} = \frac{7}{?}$
- १) १२ २) १३ ३) १४ ४) १५